

STARK in

# MATHEMATIK 1. Klasse

passend zum  
LehrplanPLUS

## Rechnen

Amelie Fuchs

**MEHR  
ERFAHREN**

mit  
Belohnungs-  
stickern



**STARK**

**STARK in**

# MATHEMATIK 1. Klasse

passend zum  
Lehrplan**PLUS**

## Rechnen

Amelie Fuchs

**MEHR  
ERFAHREN**

mit  
Belohnungs-  
stickern



**STARK**

# So arbeitest du mit dem „ActiveBook“!

**Zurück-Taste:** zur zuletzt besuchten Seite springen, z.B. von der Lösungsseite zurück zur Aufgabenseite

**Pfeiltasten:** im eText vor- und zurückblättern

**Seitenansicht:** zwischen Ein- und Zweiseitenansicht wechseln

**Mathematik 1. Klasse**  
Rechnen

**STARK**

**Inhaltsverzeichnis**

- 📄 Hinweise
- 📄 Vorwort und Inhalt
- 📁 Kapitel

**Inhaltsverzeichnis:** über die Links zu anderen Kapiteln springen

**Aufgaben-Button:** interaktive Aufgabe

**Interaktive Aufgaben:** direkt zu den interaktiven Aufgaben

**Lösungs-Button:** zu den Lösungen der Aufgaben auf dieser Seite blättern

**STARK**

Mathematik • Rechnen 1. Klasse

### Auf dem Pausenhof

Rechne die Aufgaben und trage das Ergebnis ein.

**12**  $2 + 2 = \square$

**7 + 1 = \square**

$1 + 1 = \square$

$0 + 1 = \square$

$6 + 2 = \square$

$3 + 3 = \square$

$5 + 4 = \square$

$4 + 1 = \square$

**13**  $9 - 3 = \square$

**10 - 8 = \square**

$5 - 1 = \square$


$8 - 5 = \square$

$10 - 1 = \square$

$10 - 5 = \square$

$9 - 1 = \square$

$8 - 7 = \square$



**14 Die Klasse 1b rechnet schon Tabellen!**

Rechne die Aufgaben und trage sie in die Tabelle ein.

+	0	1	2	3	4	5
1	1					
2				5		
3		4				
4			6			
5						10

# Vorwort

Liebe Eltern,

gemeinsam mit Anna und Leon übt Ihr Kind in diesem Trainingsband die ersten **grundlegenden Rechenarten**. Abwechslungsreiche Aufgaben und farbenfrohe Illustrationen bieten einen kindgerechten Einstieg in die Welt der Zahlen. Die Figuren Anna und Leon begleiten Ihr Kind durch den ganzen Band und das gesamte erste Schuljahr.

Ihr Kind lernt zunächst die Zahlen bis 10, anschließend die Zahlen bis 20 kennen. Schritt für Schritt wird das **Rechnen (Plus und Minus)** ohne und mit Zehnerüberschreitung geübt und vertieft. So wird Ihr Kind vom Einfachen zum Schweren geleitet und festigt seine Rechenfertigkeiten. Farblich hinterlegte **Knobelseiten** motivieren die Kinder, sich auch an kniffligere Aufgaben zu trauen. Im herausnehmbaren **Lösungsheft** sind die Ergebnisse aller Aufgaben zur leichten Kontrolle übersichtlich zusammengefasst.

Auf der beiliegenden **CD-ROM** oder **online** über den **Rubbelcode** auf der Innenseite des Buchumschlags finden Sie die Inhalte des Heftes als digitales „**ActiveBook**“. Die **interaktiven Aufgaben** werden sofort ausgewertet, sodass Ihr Kind gleich eine Rückmeldung bekommt, wie gut es seine Sache gemacht hat.

Ich wünsche Ihnen und Ihrem Kind viel Freude beim Üben mit diesem Buch!



Amelie Fuchs

## Inhaltsverzeichnis

Der erste Schultag – Die Zahlen bis 10 kennenlernen	1
In der neuen Klasse – Rechnen im Zahlenraum bis 10	6
Sportfest – Die Zahlen bis 20 kennenlernen	12
In der Gärtnerei – Rechnen bis 20 ohne Zehnerüberschreitung	18
Anna hat Geburtstag – Rechnen bis 20 mit Zehnerüberschreitung	24



# Sportfest – Die Zahlen bis 20 kennenlernen

## 18 Wer turnt denn da?

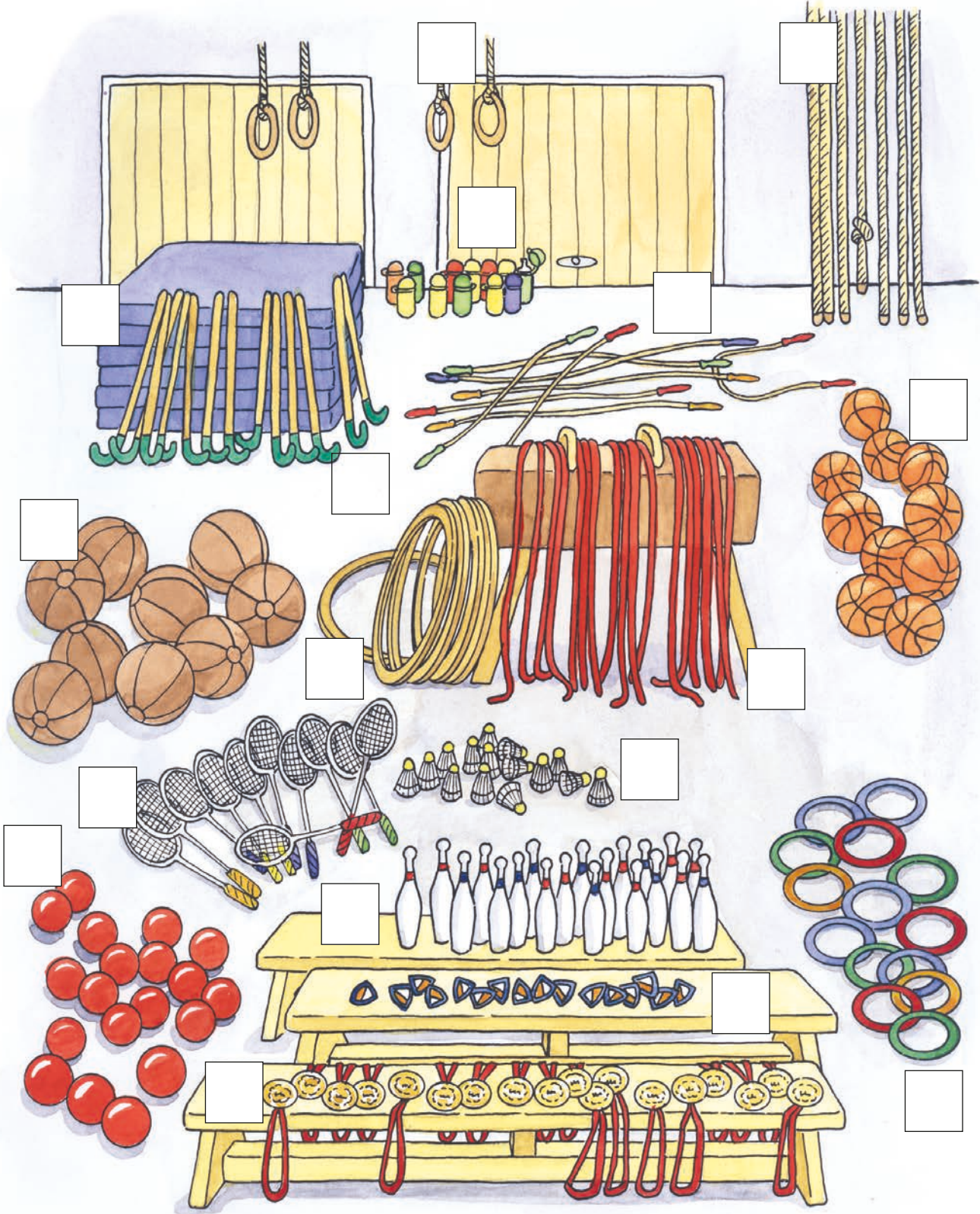
Verbinde die Zahlen von 1 bis 20 in der richtigen Reihenfolge. Du erhältst zwei Bilder.

The puzzle consists of 20 numbered dots. The numbers are arranged as follows:

- Red numbers (forming a boy's head):** 1, 2, 3, 4, 5, 6, 7, 8, 9, 10, 11, 12, 13, 14, 15, 16, 17, 18, 19, 20. Lines connect these numbers to form the profile of a boy's head.
- Blue numbers (forming a bird):** 1, 2, 3, 4, 5, 6, 7, 8, 9, 10, 11, 12, 13, 14, 15, 16, 17, 18, 19, 20. Lines connect these numbers to form the shape of a bird in flight.

19 Die 1b hilft beim Aufbau

Schreibe die richtige Anzahl auf.



**20 Die 1b rennt um die Wette!**



Schreibe die Vorgänger und Nachfolger auf.

Vorgänger	Kind	Nachfolger
—	Leon	Anna
_____	Anna	_____
_____	Tim	—
_____	Marie	_____
_____	Eva	_____

## 21 Hüpfen auf dem Zahlenstrahl

Wer am schnellsten die Rechenschritte am Zahlenstrahl ausführt und dann am richtigen Ergebnis steht, hat gewonnen.

### Kannst du mitrechnen?

Starte bei 0 und gehe 5 Schritte vor.

Gehe 3 Schritte zurück.

Gehe 14 Schritte vor.

Gehe 7 Schritte zurück.

Gehe 2 Schritte zurück.

Gehe 10 Schritte vor.


Gehe 2 Schritte vor.

Gehe 5 Schritte zurück.

Gehe 3 Schritte vor.

Du stehst jetzt auf Feld:

\_\_\_\_\_

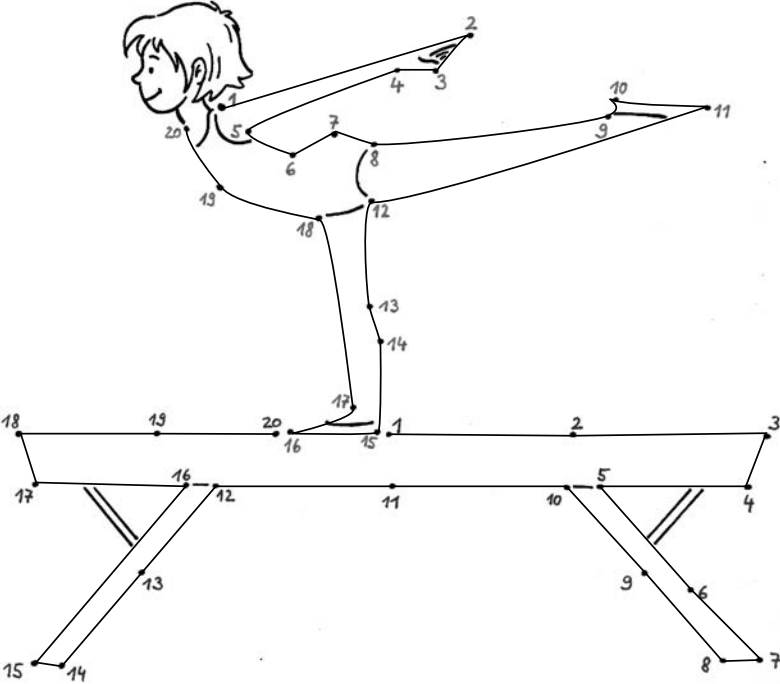


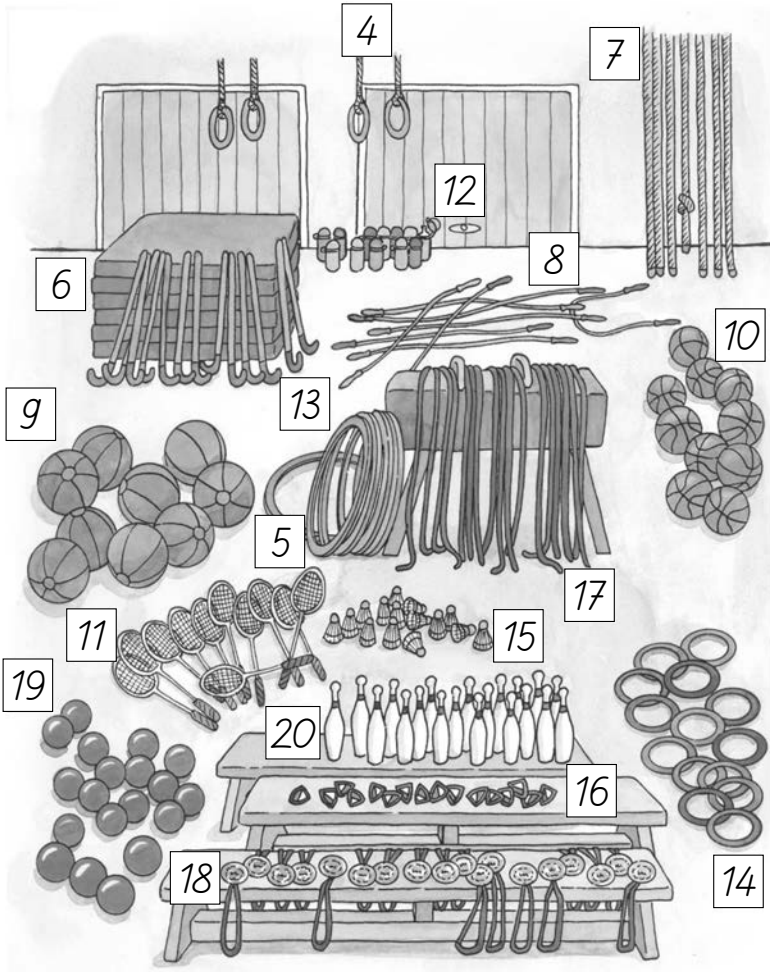




# Sportfest – Die Zahlen bis 20 kennenlernen

18






20	Vorgänger	Kind	Nachfolger
	–	Leon	Anna
	<b>Leon</b>	Anna	<b>Marie</b>
	<b>Eva</b>	Tim	–
	<b>Anna</b>	Marie	<b>Eva</b>
	<b>Marie</b>	Eva	<b>Tim</b>

21 Du stehst jetzt auf Feld: 17

22 a



b 3., 5., 6., 7., 8., 9., 10., 12., 16., 17., 19., 20.

c 2., 4., 8., 12., 14., 17.

d Die Trikots sind wie beschrieben anzumalen.

e 5., 6., 9., 10., 11., 15., 16.



© **STARK Verlag**

[www.stark-verlag.de](http://www.stark-verlag.de)  
[info@stark-verlag.de](mailto:info@stark-verlag.de)

Der Datenbestand der STARK Verlag GmbH ist urheberrechtlich international geschützt. Kein Teil dieser Daten darf ohne Zustimmung des Rechteinhabers in irgendeiner Form verwertet werden.

**STARK**



© **STARK Verlag**

[www.stark-verlag.de](http://www.stark-verlag.de)  
[info@stark-verlag.de](mailto:info@stark-verlag.de)

Der Datenbestand der STARK Verlag GmbH ist urheberrechtlich international geschützt. Kein Teil dieser Daten darf ohne Zustimmung des Rechteinhabers in irgendeiner Form verwertet werden.

**STARK**